


Trouve le périmètre du rectangle

7600 cm




7600 cm

Trouve le périmètre E

B **U** **I** **L** **D**
on
M **A** **T** **H**

Trouve le périmètre du rectangle

8600 cm



9500 cm

Trouve le périmètre E

B **U** **I** **L** **D**
on
M **A** **T** **H**

Trouve le périmètre du rectangle

4700 cm



9500 cm

Trouve le périmètre E

B **U** **I** **L** **D**
on
M **A** **T** **H**

Trouve le périmètre du rectangle

7600 cm

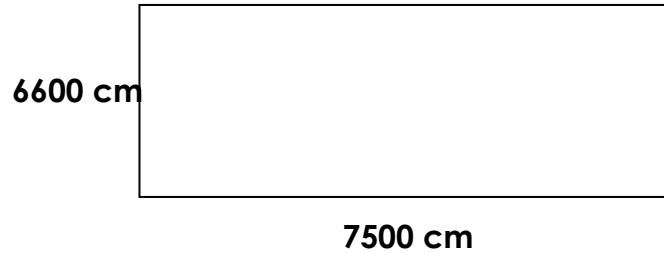


9700 cm

Trouve le périmètre E

B **U** **I** **L** **D**
on
M **A** **T** **H**


Trouve le périmètre du rectangle



Trouve le périmètre E



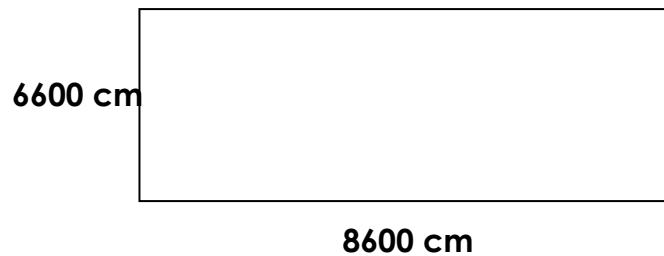
Trouve le périmètre du rectangle



Trouve le périmètre E



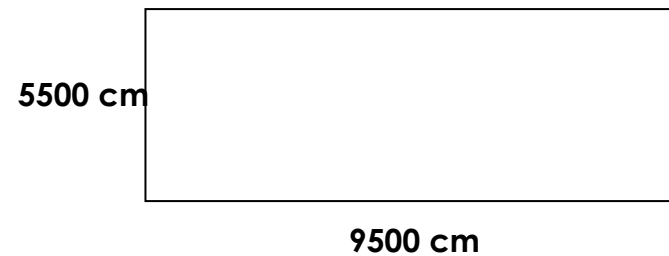
Trouve le périmètre du rectangle



Trouve le périmètre E



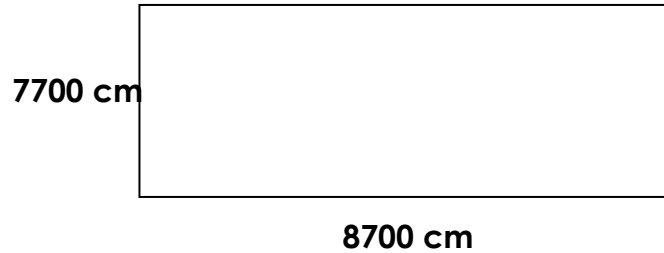
Trouve le périmètre du rectangle



Trouve le périmètre E




Trouve le périmètre du rectangle



Trouve le périmètre E



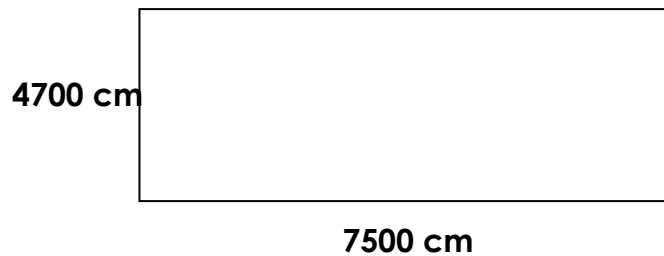
Trouve le périmètre du rectangle



Trouve le périmètre E



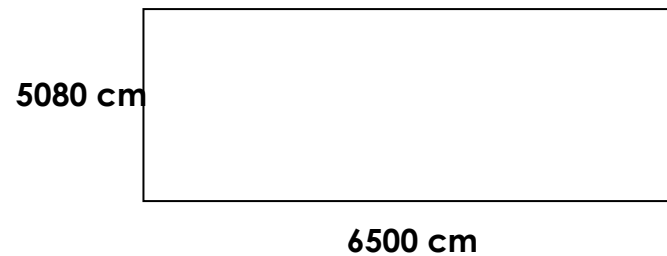
Trouve le périmètre du rectangle



Trouve le périmètre E



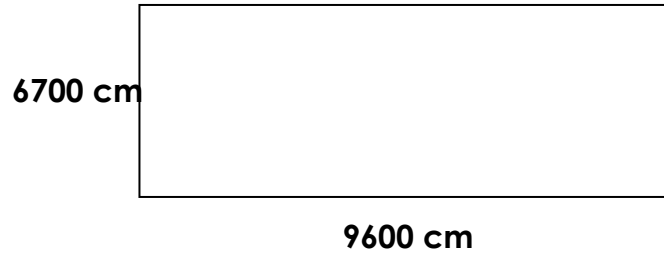
Trouve le périmètre du rectangle



Trouve le périmètre E




Trouve le périmètre du rectangle



Trouve le périmètre E



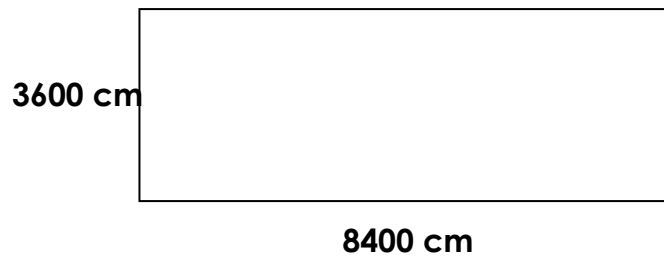
Trouve le périmètre du rectangle



Trouve le périmètre E



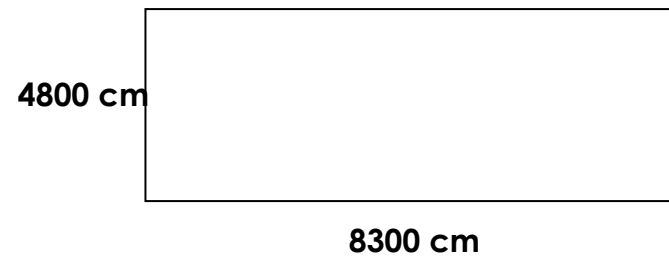
Trouve le périmètre du rectangle



Trouve le périmètre E



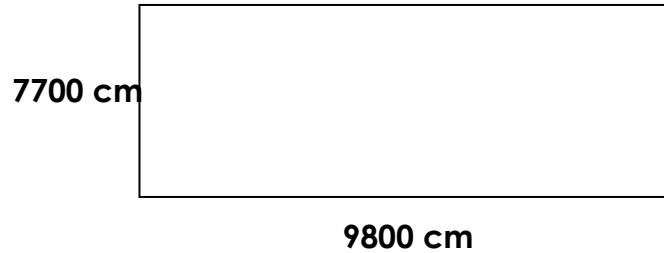
Trouve le périmètre du rectangle



Trouve le périmètre E




Trouve le périmètre du rectangle



Trouve le périmètre E



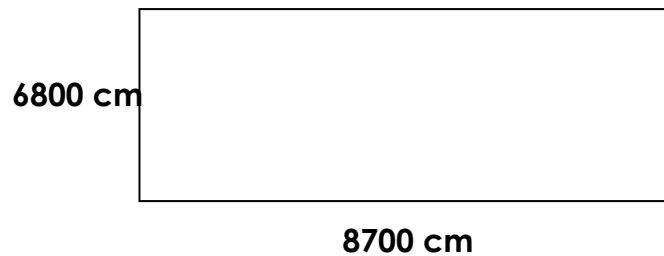
Trouve le périmètre du rectangle



Trouve le périmètre E




Trouve le périmètre du rectangle



Trouve le périmètre E



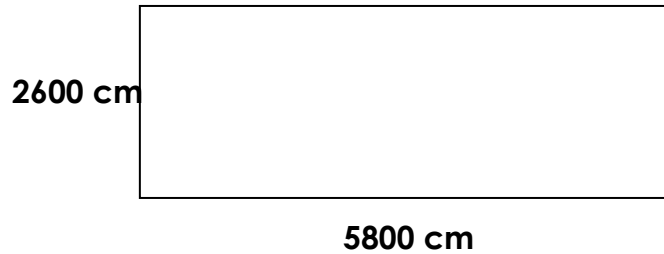
Trouve le périmètre du rectangle



Trouve le périmètre E




Trouve le périmètre du rectangle



Trouve le périmètre E



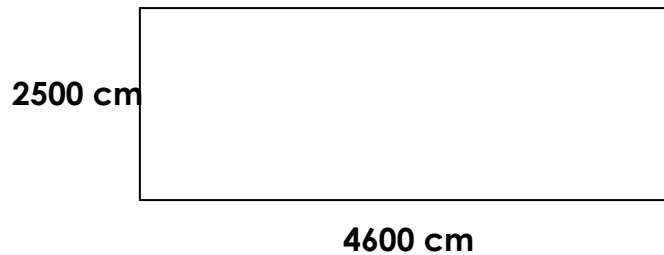
Trouve le périmètre du rectangle



Trouve le périmètre E



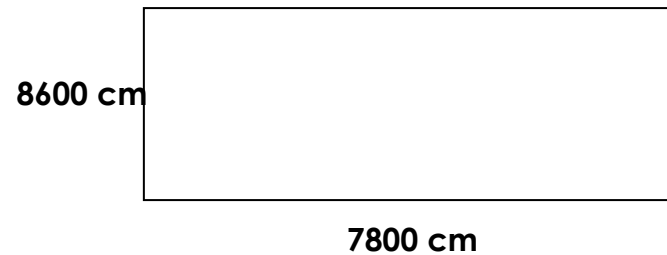
Trouve le périmètre du rectangle



Trouve le périmètre E



Trouve le périmètre du rectangle



Trouve le périmètre E



