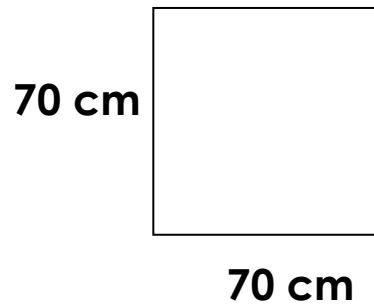


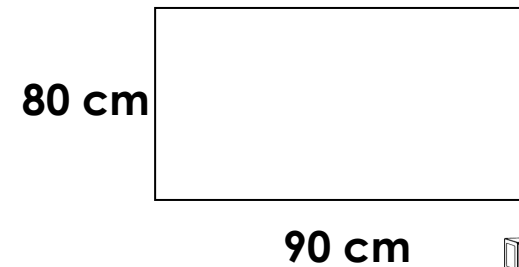
Trouve le périmètre du rectangle



**BUILD**  
on  
**MATH**

Trouve le périmètre B

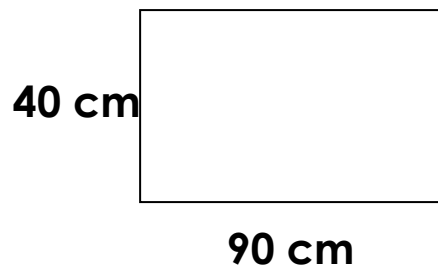
Trouve le périmètre du rectangle



**BUILD**  
on  
**MATH**

Trouve le périmètre B

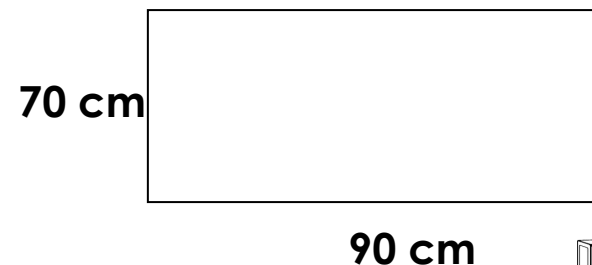
Trouve le périmètre du rectangle



**BUILD**  
on  
**MATH**

Trouve le périmètre B

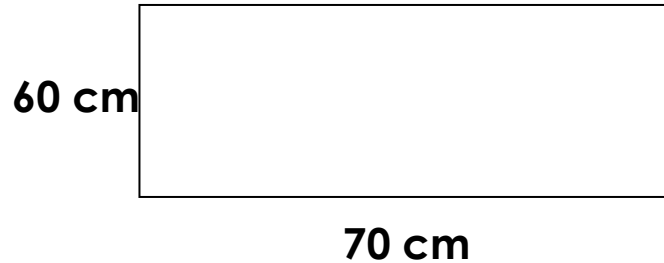
Trouve le périmètre du rectangle



**BUILD**  
on  
**MATH**

Trouve le périmètre B

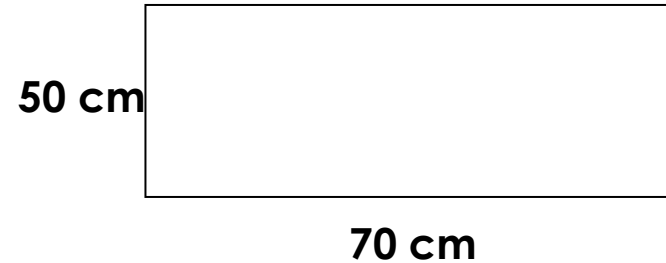
Trouve le périmètre du rectangle



Trouve le périmètre B



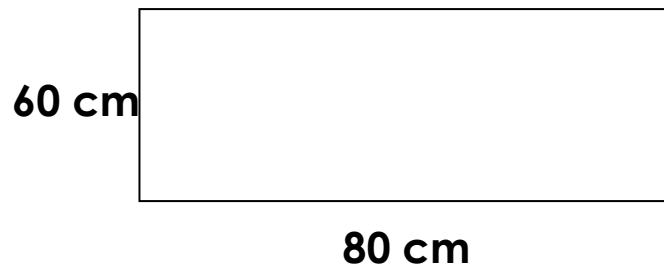
Trouve le périmètre du rectangle



Trouve le périmètre B



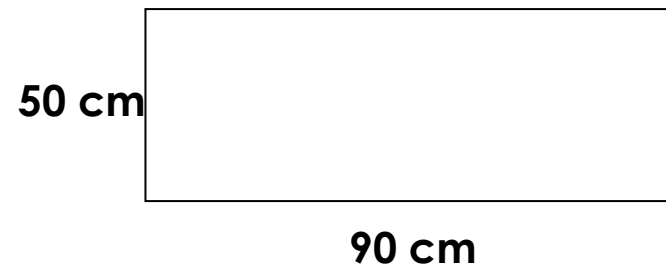
Trouve le périmètre du rectangle



Trouve le périmètre B



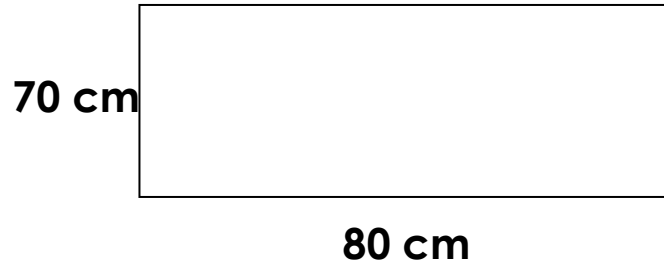
Trouve le périmètre du rectangle



Trouve le périmètre B



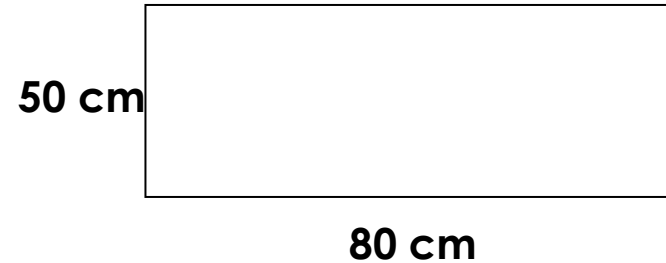
Trouve le périmètre du rectangle



Trouve le périmètre B



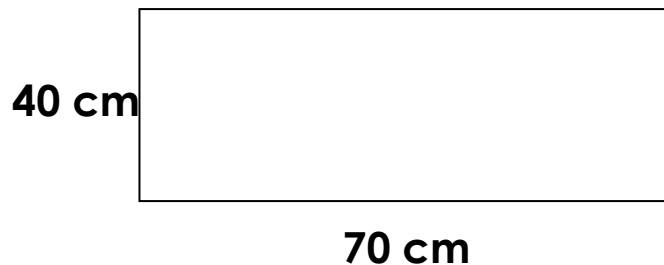
Trouve le périmètre du rectangle



Trouve le périmètre B



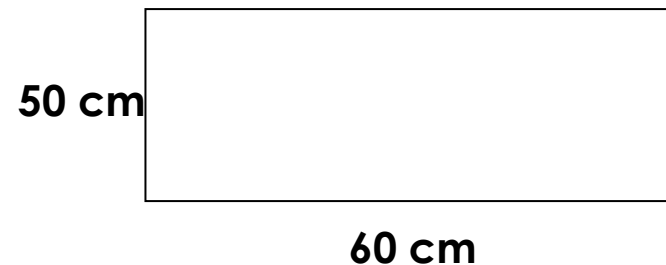
Trouve le périmètre du rectangle



Trouve le périmètre B



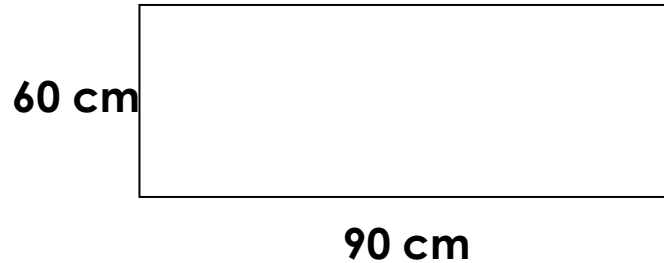
Trouve le périmètre du rectangle



Trouve le périmètre B



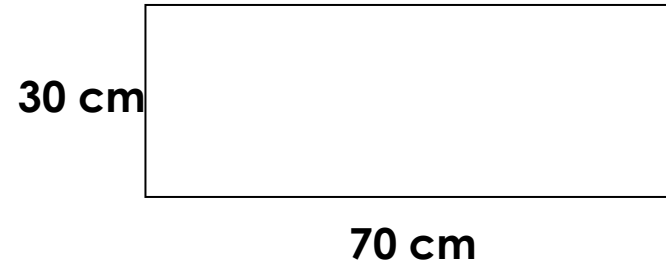
Trouve le périmètre du rectangle



Trouve le périmètre B



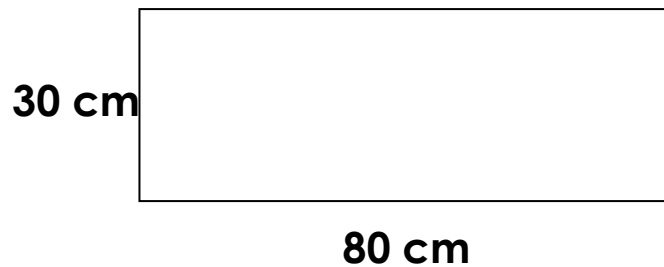
Trouve le périmètre du rectangle



Trouve le périmètre B



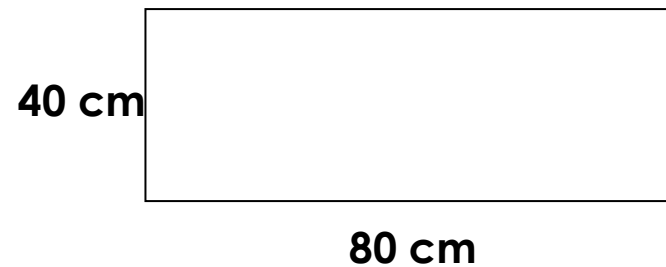
Trouve le périmètre du rectangle



Trouve le périmètre B



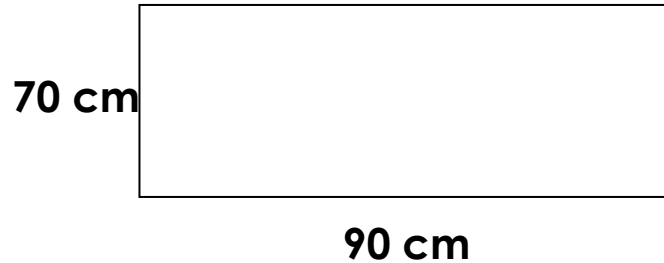
Trouve le périmètre du rectangle



Trouve le périmètre B



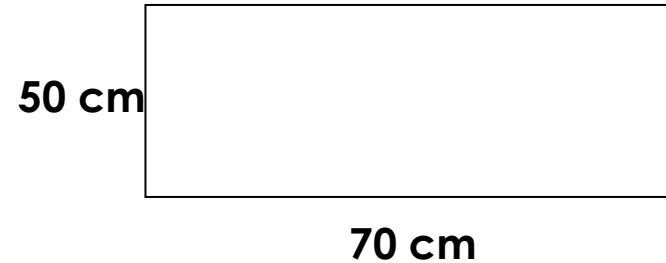
Trouve le périmètre du rectangle



Trouve le périmètre B

**B** **U** **I** **L** **D**  
on  
**M** **A** **T** **H**

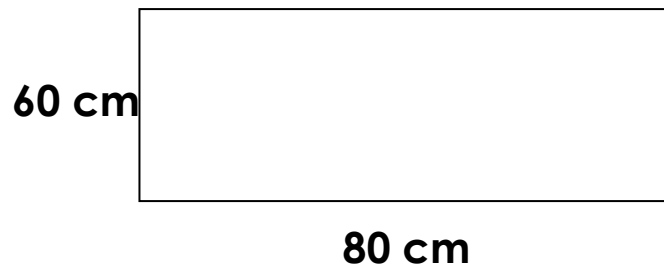
Trouve le périmètre du rectangle



Trouve le périmètre B

**B** **U** **I** **L** **D**  
on  
**M** **A** **T** **H**

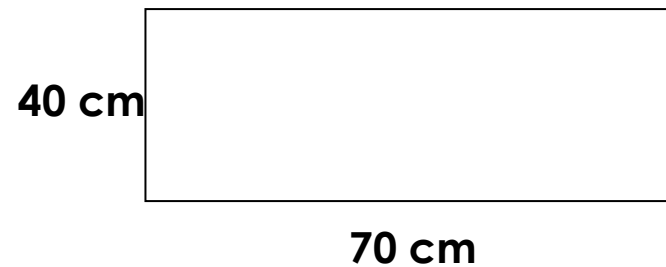
Trouve le périmètre du rectangle



Trouve le périmètre B

**B** **U** **I** **L** **D**  
on  
**M** **A** **T** **H**

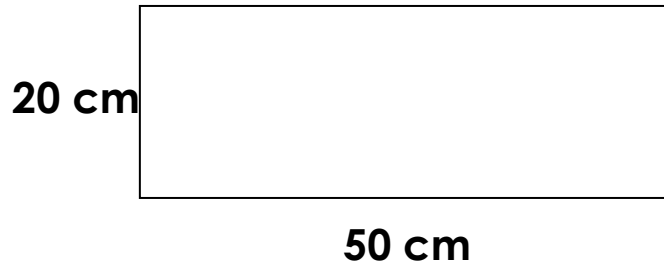
Trouve le périmètre du rectangle



Trouve le périmètre B

**B** **U** **I** **L** **D**  
on  
**M** **A** **T** **H**

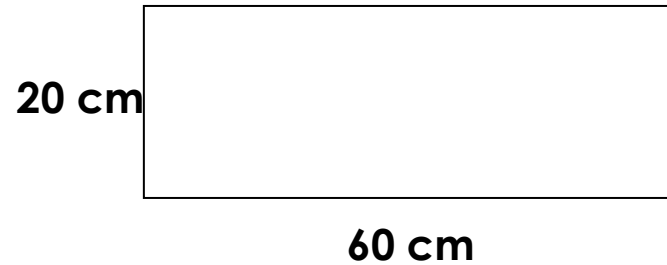
Trouve le périmètre du rectangle



Trouve le périmètre B



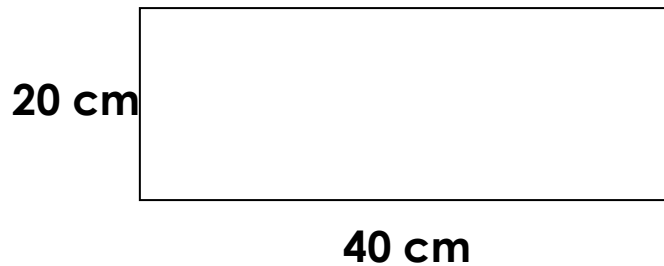
Trouve le périmètre du rectangle



Trouve le périmètre B



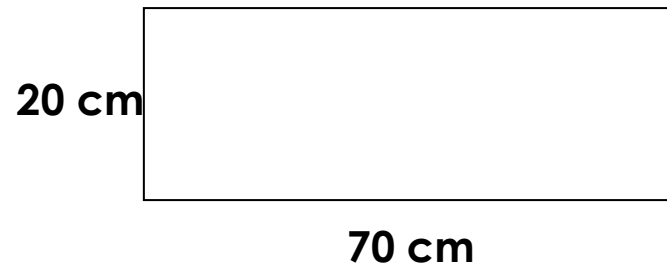
Trouve le périmètre du rectangle



Trouve le périmètre B



Trouve le périmètre du rectangle



Trouve le périmètre B



