


Trouve le périmètre du rectangle

7 cm




7 cm

Trouve le périmètre A

**BUILD**  
on  
**MATH**

Trouve le périmètre du rectangle

8 cm



9 cm

Trouve le périmètre A

**BUILD**  
on  
**MATH**

Trouve le périmètre du rectangle

4 cm



9 cm

Trouve le périmètre A

**BUILD**  
on  
**MATH**

Trouve le périmètre du rectangle

7 cm

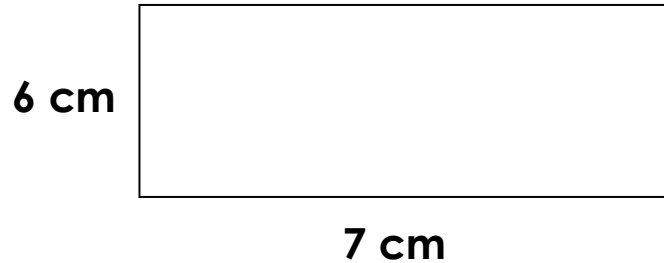


9 cm

Trouve le périmètre A

**BUILD**  
on  
**MATH**

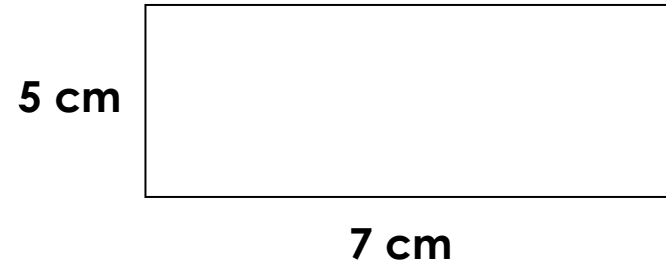
Trouve le périmètre du rectangle



Trouve le périmètre A



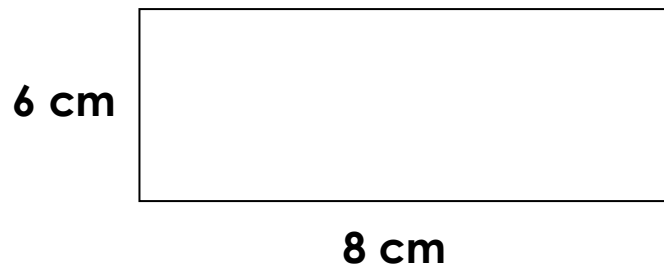
Trouve le périmètre du rectangle



Trouve le périmètre A



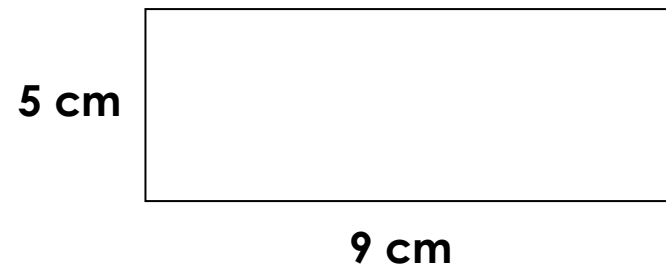
Trouve le périmètre du rectangle



Trouve le périmètre A



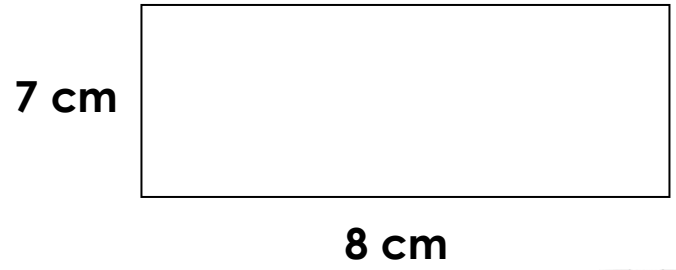
Trouve le périmètre du rectangle



Trouve le périmètre A



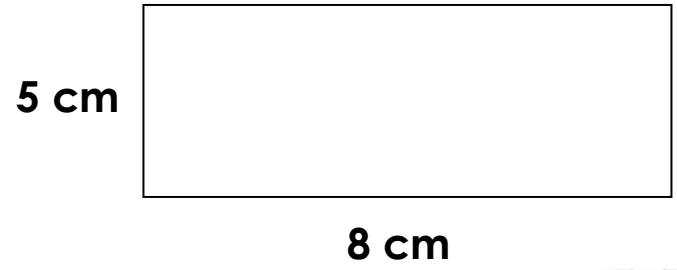
Trouve le périmètre du rectangle



Trouve le périmètre A



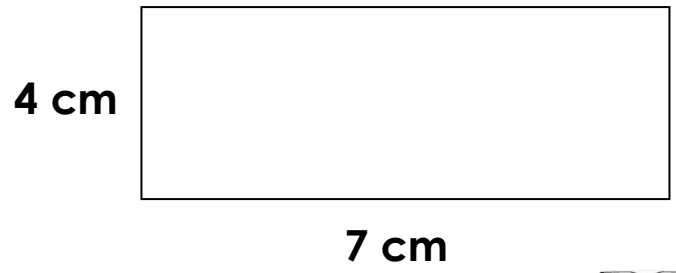
Trouve le périmètre du rectangle



Trouve le périmètre A



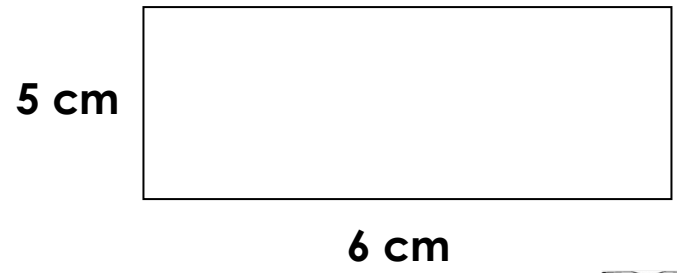
Trouve le périmètre du rectangle



Trouve le périmètre A



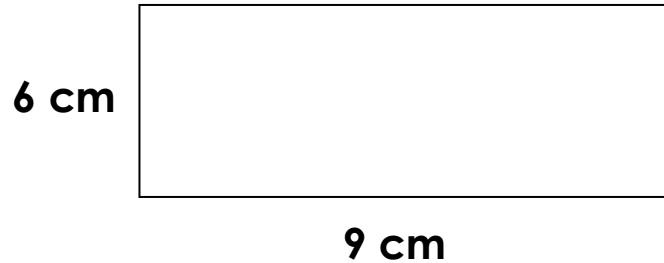
Trouve le périmètre du rectangle



Trouve le périmètre A



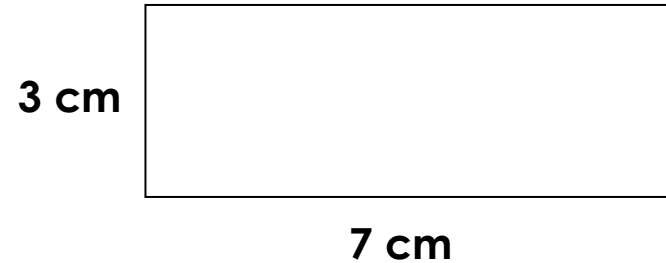
Trouve le périmètre du rectangle



Trouve le périmètre A



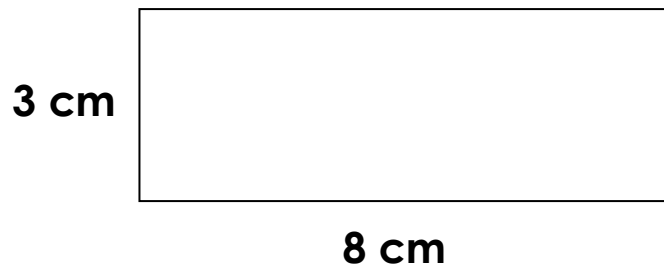
Trouve le périmètre du rectangle



Trouve le périmètre A



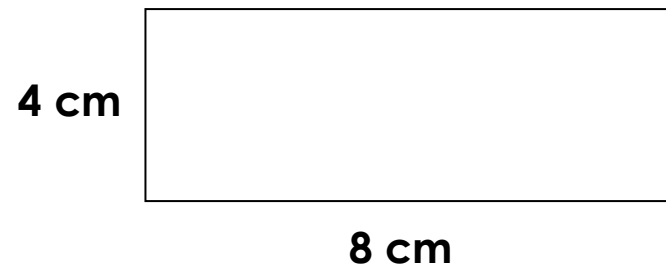
Trouve le périmètre du rectangle



Trouve le périmètre A



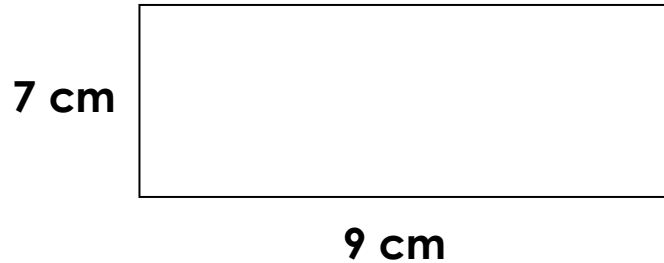
Trouve le périmètre du rectangle



Trouve le périmètre A



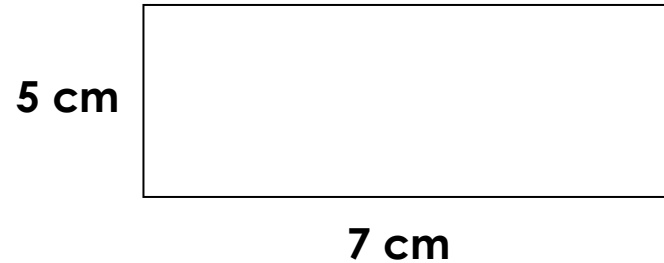
Trouve le périmètre du rectangle



Trouve le périmètre A

**B** **U** **I** **L** **D**  
on  
**M** **A** **T** **H**

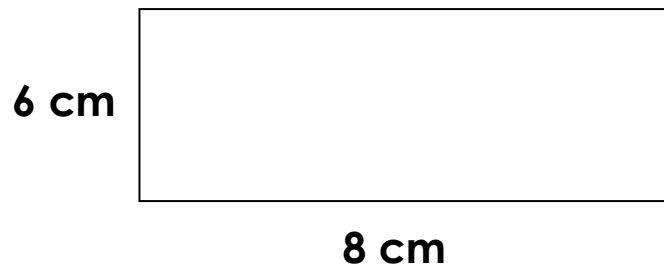
Trouve le périmètre du rectangle



Trouve le périmètre A

**B** **U** **I** **L** **D**  
on  
**M** **A** **T** **H**

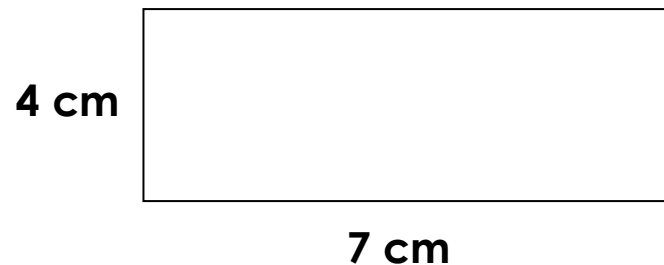
Trouve le périmètre du rectangle



Trouve le périmètre A

**B** **U** **I** **L** **D**  
on  
**M** **A** **T** **H**

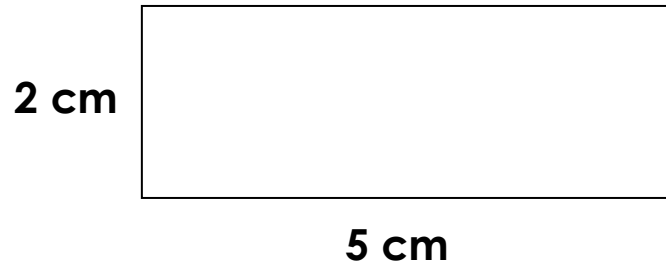
Trouve le périmètre du rectangle



Trouve le périmètre A

**B** **U** **I** **L** **D**  
on  
**M** **A** **T** **H**

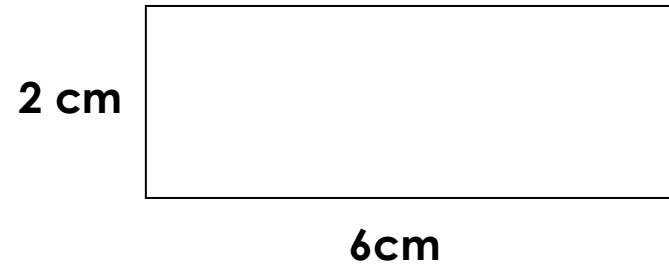
Trouve le périmètre du rectangle



Trouve le périmètre A



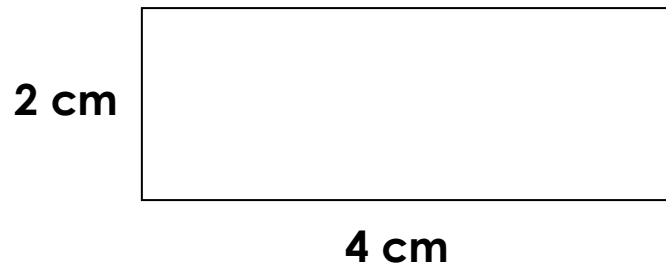
Trouve le périmètre du rectangle



Trouve le périmètre A



Trouve le périmètre du rectangle



Trouve le périmètre A



Trouve le périmètre du rectangle



Trouve le périmètre A



